

**Examenul național de bacalaureat 2026**  
**Proba E. d)**  
**Geografie**

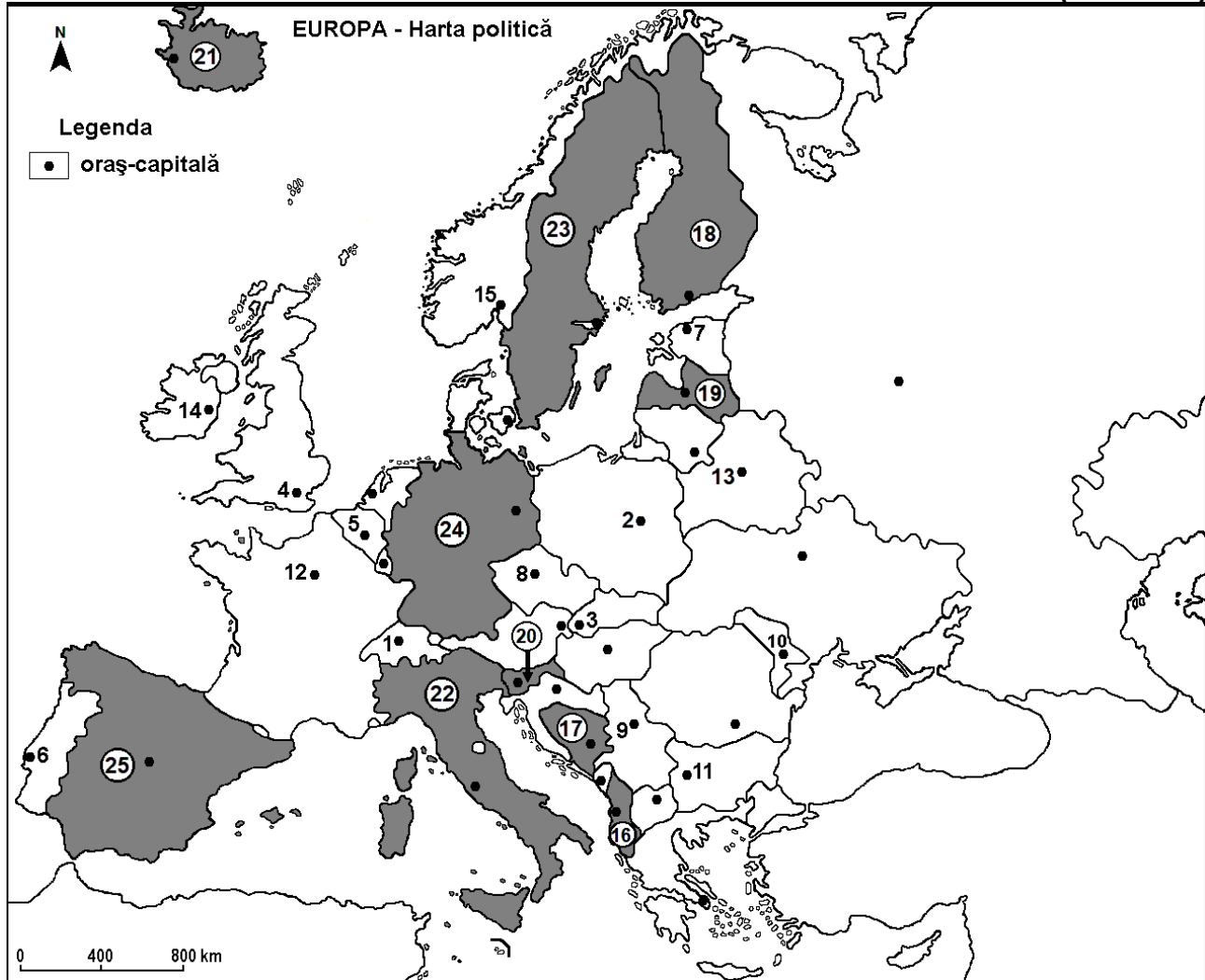
**Varianta 3**

*Profilul umanist din filiera teoretică, profilul servicii din filiera tehnologică și toate profilurile și specializările din filiera vocațională, cu excepția profilului militar*

- Toate subiectele sunt obligatorii. Se acordă zece puncte din oficiu.
- Timpul efectiv de lucru este de trei ore.

**AUFGABE I**

**(30 Puncte)**



Die oben angezeigte Karte bezieht sich auf die Aufgabe I A – D. Auf der Karte sind Hauptstädte mit Zahlen von 1 bis 15 und Staaten mit Zahlen von 16 bis 25 bezeichnet.

**A. Bestimmt:**

1. den Namen des Staates, der auf der Karte mit der Zahl **18** bezeichnet ist;
2. den Namen der Hauptstadt, die auf der Karte mit der Zahl **11** bezeichnet ist.

**4 Puncte**

**B. Schreibe** auf das Prüfungsblatt die richtigen Antworten, welche folgende unten angegebenen Aussagen ergänzen:

1. Die Hauptstadt, die auf der Karte mit der Zahl **6** bezeichnet ist, heißt ...
2. Der Staat, der auf der Karte mit der Zahl **24** bezeichnet ist, heißt ...
3. Der östliche Abhang der Skandinavischen Gebirge befindet sich im Staat, der auf der Karte mit der Zahl ... bezeichnet ist.

**6 Puncte**

**C. Schreibe** auf das Prüfungsblatt **nur den** der richtigen Antwort entsprechenden **Buchstaben (a, b, c oder d)** für jede der folgenden unten angegebenen Aussagen:

1. Die Hauptstadt Belgrad ist auf der Karte mit der folgenden Zahl bezeichnet:  
a. 3                      b. 9                      c. 10                      d. 11                      **2 Punkte**
2. Der Strom Seine durchquert die Hauptstadt, die auf der Karte mit der folgenden Zahl bezeichnet ist:  
a. 3                      b. 4                      c. 5                      d. 12                      **2 Punkte**
3. Der Staat, der auf der Karte mit der Zahl 19 bezeichnet ist, heißt:  
a. Weissrussland      b. Estland              c. Lettland              d. Litauen                      **2 Punkte**
4. Eine große Oliven- und Olivenölproduktion verzeichnet man im Staat, der auf der Karte mit der folgenden Zahl bezeichnet ist:  
a. 18                      b. 21                      c. 24                      d. 25                      **2 Punkte**
5. Die Hauptstadt, die auf der Karte mit der Zahl 2 bezeichnet ist, heißt:  
a. Preßburg              b. Minsk                      c. Prag                      d. Warschau              **2 Punkte**

D. Bestimmt drei Unterschiede zwischen dem **Klima** des Staates bezeichnet auf der Karte mit der Zahl 21 und dem **Klima** des Staates bezeichnet auf der Karte mit der Zahl 22.

**Bemerkung 1:** Die Unterschiede können sich auf jedwelche der folgenden **Klimaelemente** beziehen: klimabestimmende Faktoren, Klimatyp, mittlere Jahres/Sommer/Wintertemperaturwerte, thermische Amplitude, mittlere Jahres/Sommer/Winterniederschlagsmengen, vorherrschende Winde, andere klimatische Aspekte.

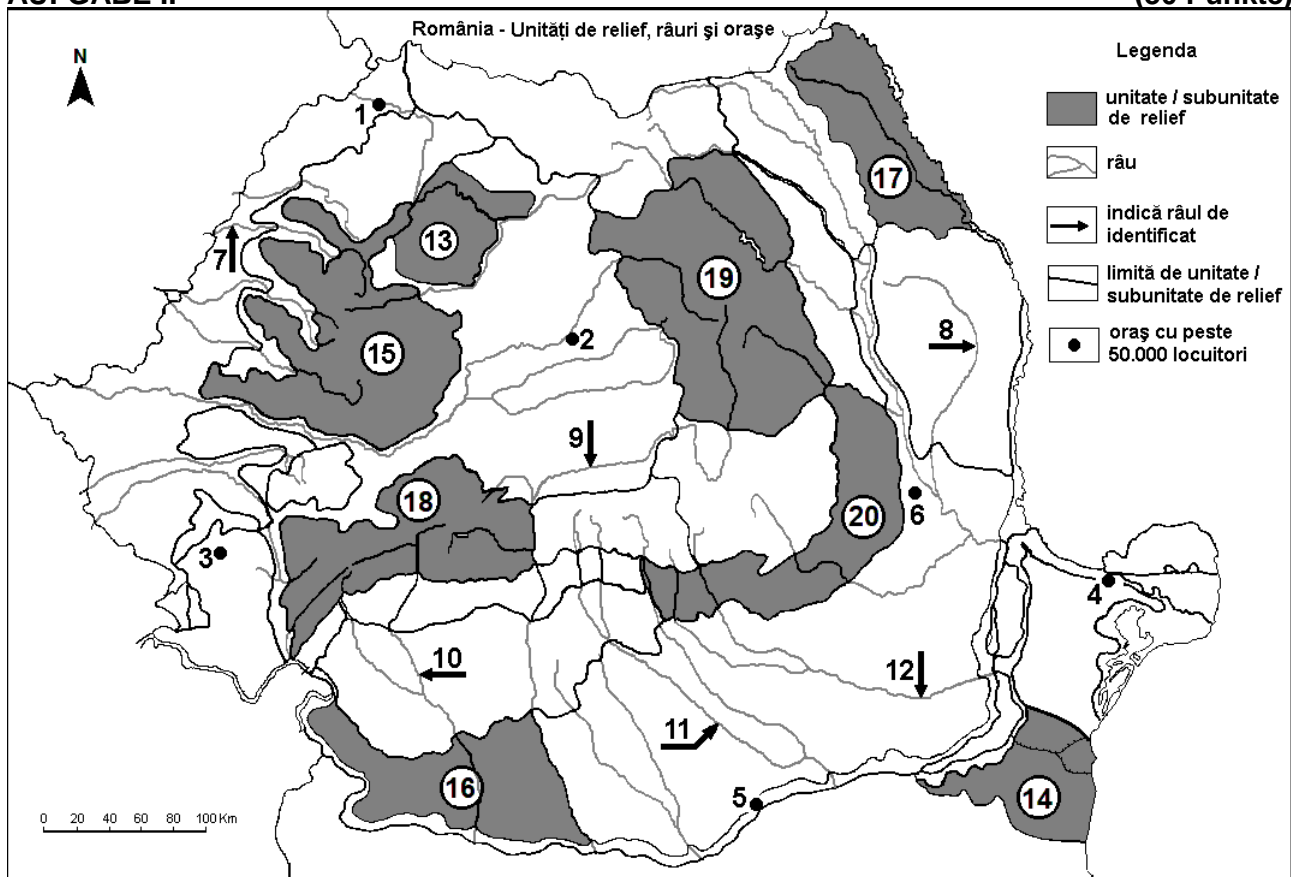
**Bemerkung 2:** Die vollständige Punktzahl wird nur dann vergeben, wenn die drei Unterschiede vergleichend und nicht einzeln vorgestellt werden.

**Bemerkung 3:** Es ist **nicht** nötig, die Namen der Staaten zu nennen; man kann sich auf die Staaten auch nur mit den Zahlen beziehen, mit denen diese auf der Karte bezeichnet sind.      **6 Punkte**

- E. 1. Erklärt das Vorhandensein der Gletscherseen in den Alpen.  
2. Nennt die Stadt in der sich der größte europäische Seehafen befindet (nach dem Warenumsatz), sowie den Namen des Staates in dem er liegt.      **4 Punkte**

## AUFGABE II

(30 Punkte)



Die oben angezeigte Karte bezieht sich auf die Aufgabe II A – E. Auf der Karte sind Städte mit Zahlen von 1 bis 6, Flüsse mit Zahlen von 7 bis 12 und Reliefeinheiten/Reliefuntereinheiten mit Zahlen von 13 la 20 bezeichnet.

**A. Bestimmt:**

1. den Namen der Stadt, die auf der Karte mit der Zahl **4** bezeichnet ist;
2. den Namen des Flusses, der auf der Karte mit der Zahl **11** bezeichnet ist. **4 Punkte**

**B. Schreibt auf das Prüfungsblatt die richtigen Antworten, welche folgende unten angegebenen Aussagen ergänzen:**

1. Der Fluss, der auf der Karte mit der Zahl **10** bezeichnet ist, heißt ...
2. Vulkanisches Relief mit Kegeln und Kratern, sowie der vulkanische See Sanktanna befinden sich in der Reliefuntereinheit, die auf der Karte mit der Zahl ... bezeichnet ist.
3. Die Stadt, die auf der Karte mit der Zahl **3** bezeichnet ist, heißt... **6 Punkte**

**C. Schreibt auf das Prüfungsblatt nur den der richtigen Antwort entsprechenden Buchstaben (a, b, c oder d) für jede der folgenden unten angegebenen Aussagen:**

1. Die auf der Karte mit der Zahl **2** bezeichnete Stadt heißt:  
a. Karlsburg      b. Bistritz      c. Klausenburg      d. Neumarkt      **2 Punkte**
2. Salz, Erdöl und Erdgas gibt es im Untergrund der Reliefuntereinheit, die auf der Karte mit der folgenden Zahl bezeichnet ist:  
a. 17      b. 18      c. 19      d. 20      **2 Punkte**
3. Die Stadt, die auf der Karte mit der Zahl **6** bezeichnet ist, heißt:  
a. Barchau      b. Bariach      c. Busău      d. Fokschan      **2 Punkte**
4. Große Flächen mit Getreideanbau gibt es in den Reliefuntereinheiten, die auf der Karte mit den folgenden Zahlen bezeichnet sind:  
a. 13 und 15      b. 14 und 16      c. 17 und 19      d. 18 und 20      **2 Punkte**
5. Der Fluss, der auf der Karte mit der Zahl **7** bezeichnet ist, durchquert die Stadt:  
a. Arad      b. Großwardein      c. Sathmar      d. Temeschburg      **2 Punkte**

**D. Bestimmt drei Unterschiede zwischen der Reliefuntereinheit bezeichnet auf der Karte mit der Zahl 17 und der Reliefuntereinheit bezeichnet auf der Karte mit der Zahl 18.**

**Bemerkung 1:** Die Unterschiede können sich auf jedwelche der folgenden Reliefaspekte beziehen: Entstehungsweise, Gesteinsarten, auf denen das Relief entstanden ist, Höhen, Zurfurchung, Reliefstufen, genetische Relieftypen, Orientierung der Höhenzügen und der Haupttäler, Anordnung der Senken und andere spezifische Reliefaspekte.

**Bemerkung 2:** Die vollständige Punkteanzahl wird nur dann vergeben, wenn die drei Unterschiede vergleichend und nicht einzeln vorgestellt werden.

**Bemerkung 3:** Es ist **nicht** nötig, die Namen der Reliefuntereinheiten zu nennen; man kann sich auf die Reliefuntereinheiten auch nur mit den Zahlen beziehen, mit denen diese auf der Karte bezeichnet sind. **6 Punkte**

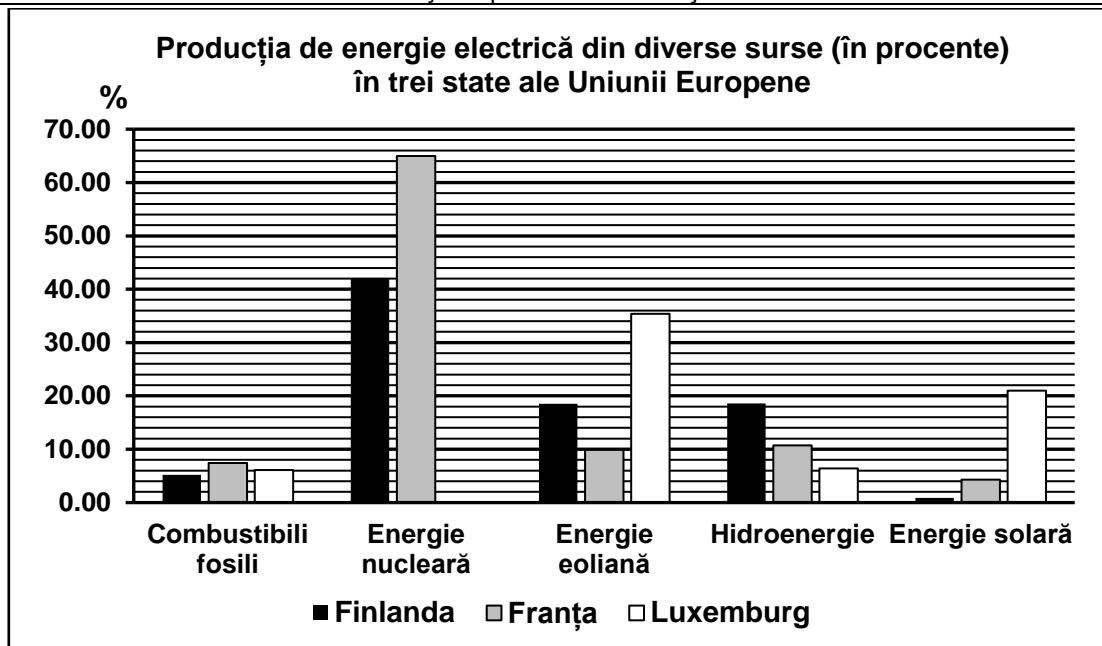
**E. Für die Reliefuntereinheit, die auf der Karte mit der Zahl 15 bezeichnet ist:**

1. bestimmt eine Ursache für die große Niederschlagsmenge;
2. nennt zwei Untergrundressourcen (Bodenschätze). **4 Punkte**

**AUFGABE III (30 Punkte)**

Die unten angezeigte graphische Darstellung bezieht sich auf die Aufgabe III A-B und zeigt die Herstellung der elektrischen Energie aus verschiedenen Ressourcen, von drei Staaten der Europäischen Union im Jahr 2023.

Quelle: Eurostat



**A. Bestimmt:**

- den Namen des Staates mit dem größtem Anteil der Kernkraftenergie in der Stromerzeugung und die Angabe dieses Anteils;
  - den Namen des Staates mit dem größtem Anteil der Sonnenenergie in der Stromerzeugung und die Angabe dieses Anteils.
- 4 Punkte**

- B. 1.** Berechnet den Gesamtanteil der regenerierbaren Energiequellen in der Stromerzeugung für Frankreich.
- Erklärt den geringen Anteil der Sonnenenergie in der Stromerzeugung für Finnland.
  - Erklärt den hohen Anteil der Windenergie in der Stromerzeugung für Luxemburg.
- 6 Punkte**

**C. Bestimmt für Ungarn die Namen von:**

- zwei Reliefeinheiten;
  - drei fließenden Gewässern;
  - dem größten See;
  - drei Städten;
  - dem natürlichen Vegetationstyp der Tieflandgebieten.
- 10 Punkte**

**D.** Die untenliegende Tabelle zeigt den Anteil der Bevölkerung im Alter bis 14 Jahren (%), in zwei europäischen Staaten, in den Jahren 2009 und 2019.

Quelle: Eurostat

Staat	Jahr 2009	Jahr 2019
Portugal	15,4%	13,7%
Rumänien	15,8%	15,7%

- Berechnet die Abnahme des Anteils der Bevölkerung im Alter bis 14 Jahren in Portugal im Jahr 2019, bezüglich des Jahres 2009.
  - Berechnet die Zunahme des Anteils der Bevölkerung im Alter bis 14 Jahren in Rumänien in Vergleich zu Portugal, im Jahr 2019.
  - Bestimmt einen Grund der Abnahme der Bevölkerung im Alter bis 14 Jahren in diesen Staaten.
- 6 Punkte**

**E.** Bestimmt einen Vorteil und einen Nachteil für die Warenbeförderung durch den Schiffsverkehr in Europa.

**4 Punkte**