

Examenul național de bacalaureat 2026
Proba E. d)
Geografie

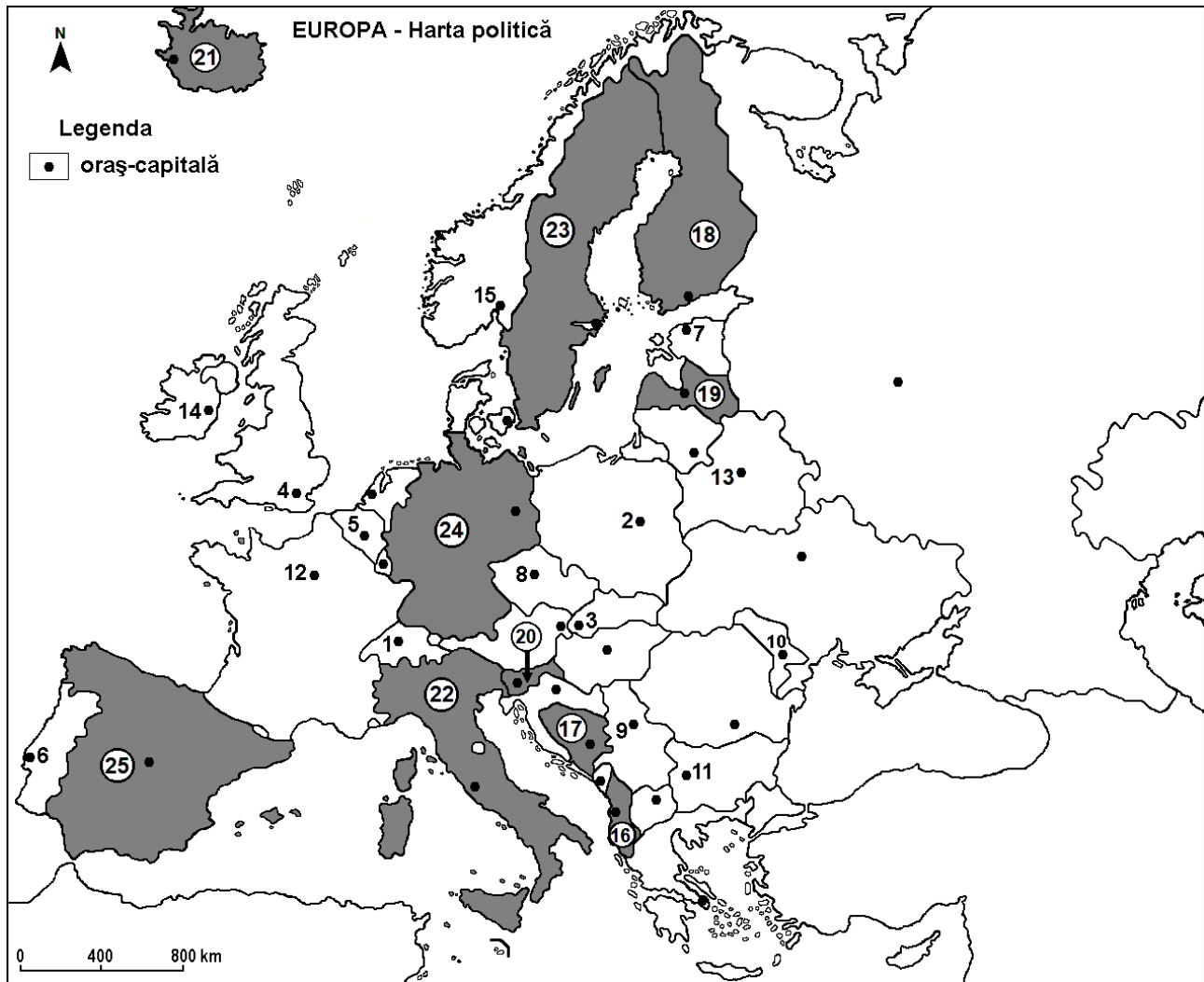
Varianta 3

Profilul umanist din filiera teoretică, profilul servicii din filiera tehnologică și toate profilurile și specializările din filiera vocațională, cu excepția profilului militar

- Toate subiectele sunt obligatorii. Se acordă zece puncte din oficiu.
- Timpul efectiv de lucru este de trei ore.

ЗАВДАННЯ I

(30 балів)



Наведена карта відноситься до завдання I А – D. . На карті позначено міста-столиці числами від 1 до 15 і держави числами від 16 до 25

A. Уточніть:

1. назву держави, що позначена на карті числом 18;
2. назву міста-столиці, що позначена на карті числом 11

4 бали

B. Напишіть на екзаменаційному листі правильні відповіді, що доповнюють ствердження:

1. Місто-столиця, позначене на карті числом 6 називається ...
2. Держава, позначена на карті числом 24 називається ...
3. Східний схил Скандинавських горів (Альпів) знаходиться в державі позначена на карті числом ...

6 puncte

C. На екзаменаційному листі, напишіть **лише букву (a, b, c або d)**, яка відповідає правильній відповіді для наступних стверджень:

1. Місто-столиця, Белград позначена на карті числом:

a. 3

b. 9

c. 10

d. 11

2 бали

2. Rîca Сена протікає через столицю, позначену на карті числом:
a. 3 b. 4 c. 5 d. 12 2 бали
3. Держава, позначена на карті числом 19 називається:
a. Білорусь b. Естонія c. Латвія d. Литва 2 бали
4. Велика кількість виробництва (маслинової олії) маслинів здобувається на території держави, позначеної на карті числом:
a. 18 b. 21 c. 24 d. 25 2 бали
5. Держава, позначена на карті числом 2 називається:
a. Братислава b. Мінск c. Прага d. Варшава 2 бали

D. Наведіть три відмінності між **кліматом** держави, позначеної на карті числом 21, і **кліматом** держави, позначеної на карті числом 22.

Примітка 1: Відмінності можуть стосуватися будь-якого з таких елементів клімату: генетичні фактори, тип клімату, середні річні / літні / зимові температури, температурна амплітуда, середня річна / літня / зимова кількість опадів, вітри з високою частотою, інші кліматичні особливості.

Примітка 2: Повна оцінка буде надана лише у випадку, якщо відмінності будуть представлені порівняльно, а не окремо.

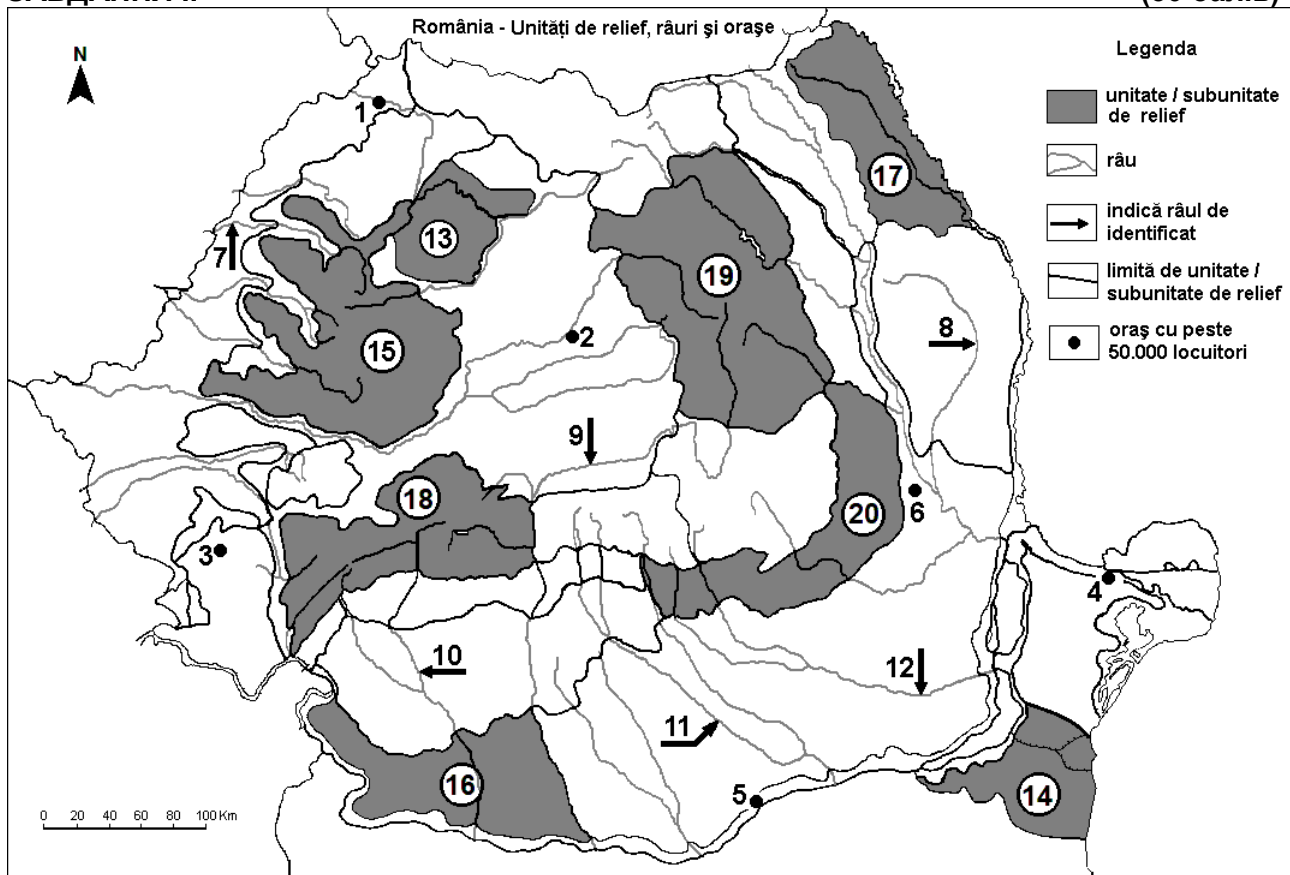
Примітка 3: Не обов'язково зазначати назви держав; можна посилатися на відповідні держави за числами, якими вони позначені на карті. **6 балів.**

E. 1. Поясніть присутність льодовикових озерів в Горах Альпів.

2. Скажіть назву міста де знаходиться найбільший європейський морський порт (перевозу товарів) і назва держави де він знаходиться. **4 puncte**

ЗАВДАННЯ II

(30 балів)



Карта, наведена вище, стосується завдання II А – Е. На карті позначені міста числами від 1 до 6, річки числами від 7 до 12 та одиниці/підоддиниці рельєфу числами від 13 до 20.

A. Вкажіть:

1. назву міста позначеного на карті числом 4;
2. назву річки позначеної на карті числом 11.

4 бали

B. Напишіть на екзаменаційному листі правильні відповіді, що доповнюють наведені нижче ствердження:

1. Річка, позначена на карті числом **10**, називається ...
2. Вулканічний рельєф з конусами та кратерами, так само як вулканічне озеро Свята Анна знаходиться в підодиноці рельєфу позначеної на карті числом...
3. Місто, позначене на карті числом **3**, називається ... **6 балів**

C. Напишіть на екзаменаційному листі **лише букву (a, b, c або d)**, що відповідає правильній відповіді для кожного з наведених стверджень:

1. Місто, позначене на карті числом **2**, називається:
a. Альба-Юлія b. Бистрица c. Клуж-Напока d. Тиргу Муреш **2 бали**
2. Сіль, нафта та природний газ знаходяться в підґрунтя підодиноці рельєфу позначеної на карті числом:
a. 17 b. 18 c. 19 d. 20 **2 бали**
3. місто, позначене на карті числом **6**, називається:
a. Бакеу b. Бирлад c. Бузеу d. Фокшань **2 бали**
4. Вирощення збіжжя займає великі площі в підодиноці рельєфу позначеної на карті числами:
a. 13 și 15 b. 14 și 16 c. 17 și 19 d. 18 și 20 **2 бали**
5. Річка позначена на карті числом 7 протікає через місто:
a. Арад b. Орадеа c. Сату-Маре d. Тімішоара **2 бали**

D. Наведіть три відмінності між **рельєфом** підодиноці, позначеної на карті числом **17**, і **рельєфом** підодиноці, позначеної на карті числом **18**.

*Примітка 1: Відмінності можуть стосуватися будь-якого з таких аспектів **рельєфу**: спосіб утворення, категорії/типи порід, на яких сформувався рельєф, висоти, ступінь розчленованості, уступи рельєфу, генетичні типи рельєфу, орієнтація хребтів і основних долин, розташування западин, інші специфічні особливості рельєфу.*

Примітка 2: Повна оцінка буде надана лише у випадку, якщо всі три відмінності представлені порівняльно, а не окремо.

Примітка 3: Не обов'язково зазначати назви підодиноць рельєфу; можна посилатися на відповідні підодиноці за числом на карті. **6 балів**

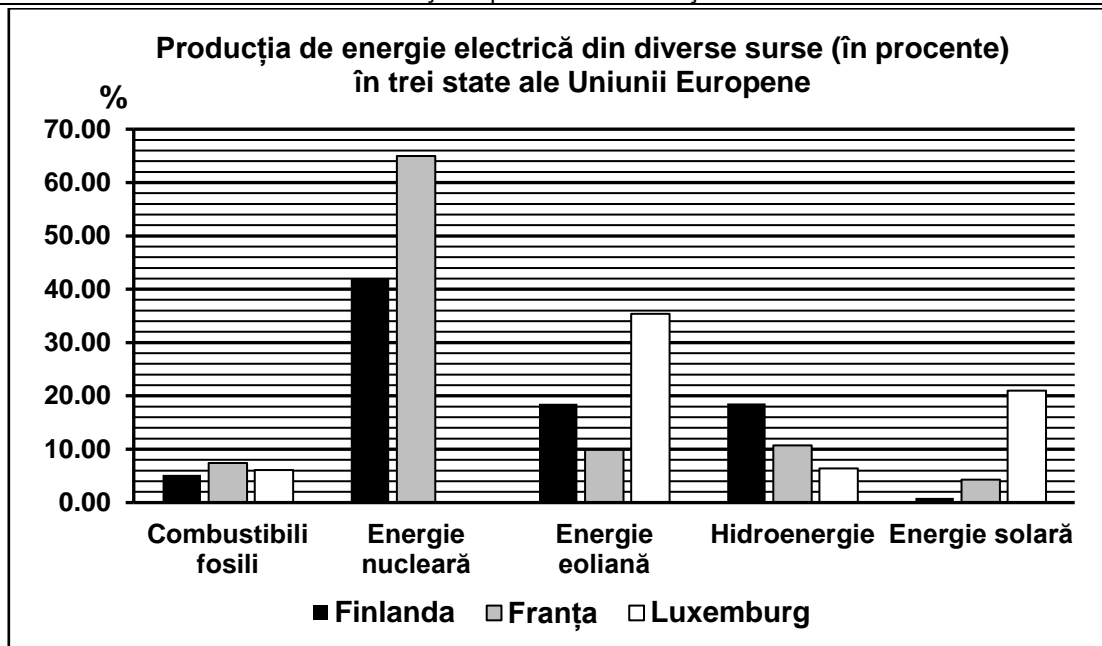
E. для підодиноці рельєфу, позначеної на карті числом **15**:

1. визначте одну причину яка викликає велику кількість опадів в цій підодиноці рельєфу.
2. вкажіть дві підземні ресурси **4 бали**

ЗАВДАННЯ III (30 балів)

Графічне зображення нижче стосується завдання III **A-B** та показує виробництво електричної енергії з різних ресурсів у трьох державах Європейського Союзу у 2023 року.

Джерело: Eurostat



A. Vkaжіть:

1. назву держави з найбільшою вагою ядерної енергії у виробництві електричної енергії та її вартість;
2. назву держави з найбільшою вагою сонцевої енергії у виробництві електричної енергії та її вартість;

4 бали

- B. 1.** Обчисліть загальну вагу енергетичних відновлюваних ресурсів для Франції.
2. Поясніть низький відсоток сонцевої енергії у виробництві електричної енергії з Фінляндії.
3. Поясніть високий відсоток еолової енергії у виробництві електричної енергії з Люксембургу.

6 балів

C. Для Угорщини вкажіть:

1. назви двох одинець рельєфу;
2. назви трьох річок;
3. назва найбільшого озера;
4. назви трьох міст;
5. Вид рослинності в рівнинних регіонах.

10 балів

D. У таблиці нижче подано відсоток (%) населення з віком до 14 років, в двох європейських державах, в 2009 року та 2019 року

Джерело: Eurostat

держава	2009 рік	2019 рік
Португалія	15,4%	13,7%
Румунія	15,8%	15,7%

1. Обчисліть на скільки зменшився відсоток населення віком до 14 років в Португалії у 2019 року ніж у 2009 року.
2. Обчисліть на скільки збільшився відсоток населення віком до 14 років в Румунії ніж в Португалії в 2019 року.
3. Вкажіть один фактор який визначає зменшення відсотка населення з віком до 14 років у вказаних державах.

6 балів

E. Вкажіть одну користь та одну невігоду для морського транспорту товарів в Європі.

4 бали